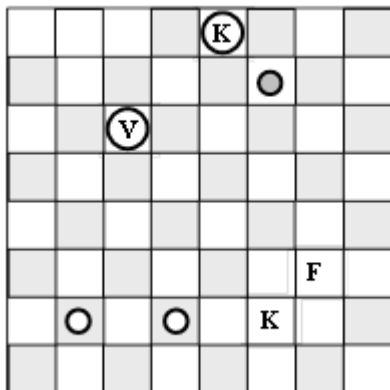


Rejtvénysarok – 1. forduló

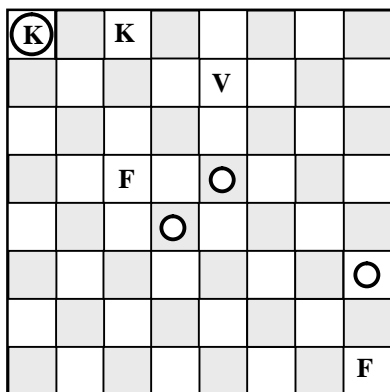
Logikai sakkfeladványok

1. Vajon történt-e gyalogátváltozás az alábbi játszmában? (1 pont)

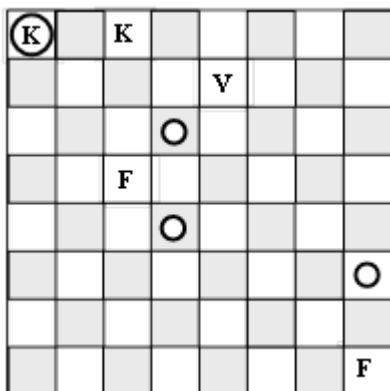


Világos

2. Mi lehetett az utolsó lépés? (Sajnos nem tudjuk, melyik világos alapsora, tehát hogy „felfelé” vagy „lefelé” támad.) (4 pont)



3. Mi lehetett az utolsó három lépéspár, ha nem történt gyalogátváltozás? (5 pont)



Világos